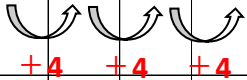
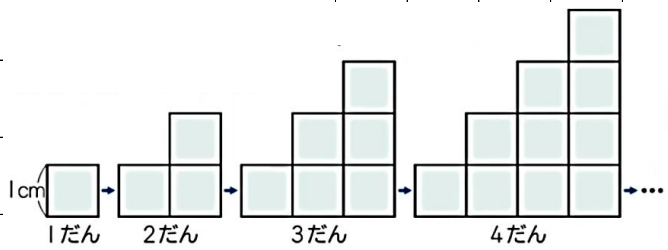


P.89	[変	わ	り	方]														
⑥	だ	ん	の	数	と	ま	わ	り	の	長	さ	の	関	係	を	、	表	に	か	
	い	て	調	べ	よ	う	。													
⑤	1	辺	が	1	cm	の	正	方	形											
	を	な	ら	べ	て	、	右	の	よ											
	う	な	階	だ	ん	の	形	を	つ											
	く	っ	て	い	き	ま	す	。												
	だ	ん	の	数	と	ま	わ	り	の	長	さ	の	関	係	を	調	べ	ま	し	
	よ	う	。																	
④	だ	ん	の	数	を	1	だ	ん	、	2	だ	ん	、	3	だ	ん	、	…	と	
	ふ	や	し	て	い	く	と	、	ま	わ	り	の	長	さ	は	ど	の	よ	う	
	に	変	わ	り	ま	す	か	。												
				だんの数とまわりの長さ																
				だんの数	(だん)	1	2	3	4	5	6	7	8	9	10					
				まわりの長さ	(cm)	4	8	12	16	20	24	28	32	36	40					
	だ	ん	の	数	を	1	ず	つ	ふ	や	し	て	い	く	と	、				
	ま	わ	り	の	長	さ	は	4	(cm)	ず	つ	ふ	え	て	い	く	。			
③	だ	ん	の	数	と	ま	わ	り	の	長	さ	の	関	係	を	、	だ	ん	の	
	数	を	○	だ	ん	、	ま	わ	り	の	長	さ	を	△	cm	と	し	て	式	
	に	表	し	ま	し	よ	う	。												
式	○	×	4	=	△	(△	÷	○	=	4	、	4	×	○	=	△)		




P.90 [変 わ り 方 と グ ラ フ]

② 2 つ の 量 の 関 係 を 、 折 れ 線 グ ラ フ に か い て 調 べ よ う 。

1 下 の 表 は 、 水 そ う に 水 を 入 れ た と き の 水 の か さ と 全 体 の 重 さ を 表 に し た も の で す 。 水 の か さ と 全 体 の 重 さ の 関 係 を 、 折 れ 線 グ ラ フ に か い て 調 べ ま し ょ う 。

水そうに水を入れたときの水のかさと全体の重さ

水のかさ (L)	1	2	3	4	5	6	...
全体の重さ (kg)	1.5	2.5	3.5	4.5	5.5	6.5	...



水そうに水を入れたときの 水のかさと全体の重さ

