

◆各問題について、自分で自信があるかないか、マークに○をつけましょう。

😊自信あり 😊まあまあ自信あり 😞少し自信なし 😞自信なし

# 4年

## 16. 直方体と立方体

クラス	名
	組前

① 次の□にあてはまることばや数をかきましょう。

① 長方形や、長方形と正方形でかこまれた形を

□といいます。

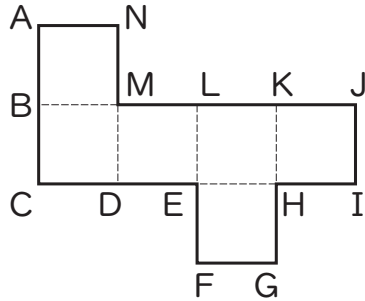
② 正方形だけでかこまれた形を□といいます。

③ 直方体ちよくほうたいや立方体りっぽうたいには、面が□つ、辺へんが

□、頂点ちやうてんが□つあります。

😊 😊 😞 😞

② 右の立方体りっぽうたいのてん開図てんかいずを組み立てます。

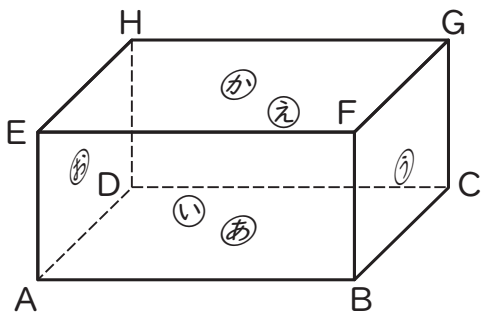


① 辺ANに重なるのはどの辺ですか。  
( )

② 頂点Cと重なる頂点をすべてかきましょう。  
( )

😊 😊 😞 😞

③ 下の直方体ちよくほうたいをみて答えましょう。



① ④の面と平行な面はどれですか。  
( )

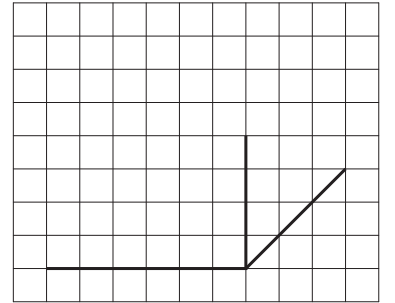
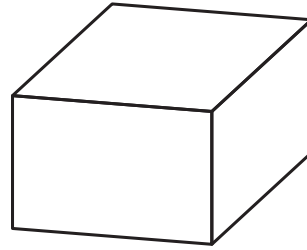
② ④の面すいちよくと垂直な面はいくつありますか。  
( )

③ 辺DCと垂直な辺をすべてかきましょう。  
( )

④ ④の面と平行な辺をすべてかきましょう。  
( )

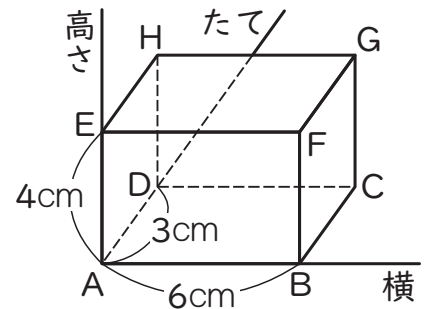
😊 😊 😞 😞

④ 下のようみとりずな直方体ちよくほうたいの見取図けんしよずの続きをかきましょう。



😊 😊 😞 😞

⑤ 右の直方体ちよくほうたいで、頂点Aをもとにしたとき、次の頂点はどのように表すことができますか。



① 頂点F  
横( )cm たて( )cm 高さ( )cm

② 頂点H  
横( )cm たて( )cm 高さ( )cm

😊 😊 😞 😞

### ( 直方体と立方体 ) の学習をふりかえって

★ この学習は楽しかったですか。

( はい まあまあ 少し いいえ )

● 感想を自由にかきましょう。(じゅぎょうの中で、おもしろかったことや気づいたことなど)

◆ この学習はよくわかりましたか。

( はい まあまあ 少し いいえ )