

◆各問題について、自分で自信があるかないか、マークに○をつけましょう。

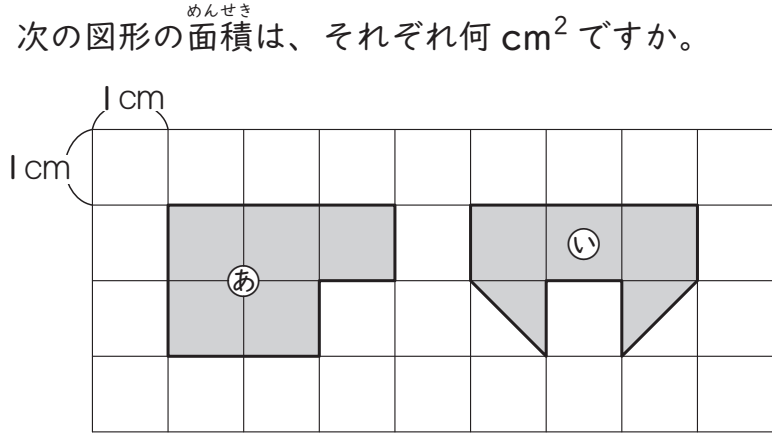
😊自信あり 😊まあまあ自信あり 😞少し自信なし 😞自信なし

4年

10. 面積

クラス	名
	組前

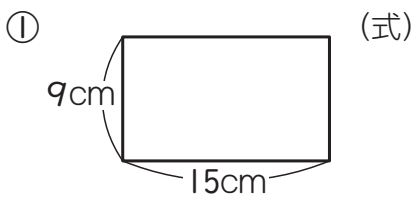
① 次の図形の面積は、それぞれ何 cm^2 ですか。



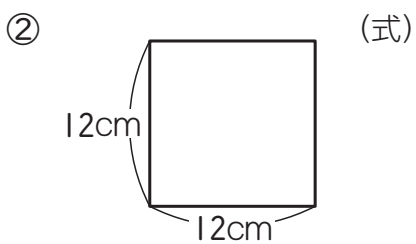
あ() い()

😊 😊 😞 😞

② 次の長方形と正方形の面積を求めましょう。



答え ()



答え ()

😊 😊 😞 😞

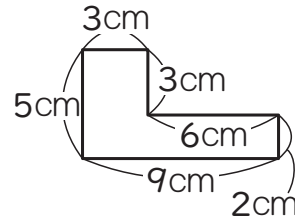
③ 面積が 54 cm^2 の長方形をかこうと思います。
横の長さを 9 cm にすると、たての長さは何 cm ですか。

(式)

答え ()

😊 😊 😞 😞

④ 次の図形の面積を求めましょう。
(式)



答え ()

😊 😊 😞 😞

⑤ たて 200 cm 、横 6 m の長方形の花だんの面積を求めましょう。

① 花だんの面積は何 cm^2 ですか。
(式)

答え ()

② 花だんの面積は何 m^2 ですか。
(式)

答え ()

😊 😊 😞 😞

⑥ 次の面積を、[]の中の単位で求めましょう。

① 1辺が 60 m の正方形の土地[a]
(式)

答え ()

② たて 300 m 、横 800 m の長方形の公園[ha]
(式)

答え ()

😊 😊 😞 😞

(面積) の学習をふりかえって

★ この学習は楽しかったですか。

(はい まあまあ 少し いいえ)

● 感想を自由にかきましょう。(じゅぎょうの中で、おもしろかったことや気づいたことなど)

◆ この学習はよくわかりましたか。

(はい まあまあ 少し いいえ)