

◆各問題について、自分で自信があるかないか、マークに○をつけましょう。

😊自信あり 😊まあまあ自信あり 😞少し自信なし 😞自信なし

**4年**

**8. 式と計算の順じよ**

クラス	名
	組前

① ( )を使って、1つの式にかいて求めましょう。

① 1箱に、ボールをたてに2こ、横に4こならべて入れます。  
ボール48こでは、箱は何こいりますか。  
(式)

答え ( )

② 1こ80円のパンと1本120円のジュースを組にして買います。1000円では、何組買えますか。  
(式)

答え ( )

③ 130円のシュークリームと280円のケーキを買います。  
500円を出したときのおつりは何円ですか。  
(式)

答え ( )

😊 😊 😞 😞

② 次の計算をしましょう。

- ①  $30 + 12 \times 5$
- ②  $16 - 6 \div 3$
- ③  $80 \div 4 + 15 \times 2$
- ④  $3 \times 9 - 6 \div 3$
- ⑤  $(3 \times 9 - 6) \div 3$
- ⑥  $3 \times (9 - 6 \div 3)$

😊 😊 😞 😞

③ □にあてはまる数をかきましょう。

①  $7 \times 14 = \square \times 7$

②  $3 \times 16 + 8 \times 16 = (3 + 8) \times \square$

😊 😊 😞 😞

④ くふうして、次の計算をしましょう。


①  $63 + 26 + 74$

②  $32 \times 25$

③  $97 \times 14$

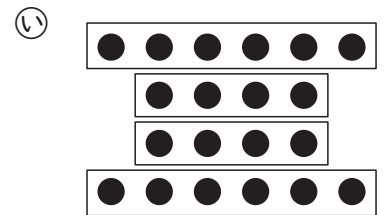
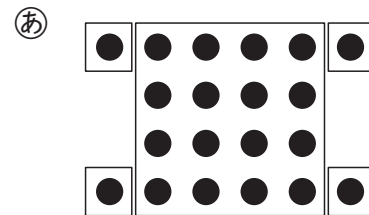
😊 😊 😞 😞

⑤ 右の図の●の数を、次のようにして求めました。それぞれの式の考え方を下の図から選び、記号で答えましょう。



①  $6 \times 2 + 4 \times 2$  ( )

②  $4 \times 4 + 1 \times 4$  ( )



😊 😊 😞 😞

⑥ □にあてはまる数を求めましょう。

①  $\square + 38 = 60$

②  $\square - 27 = 49$

③  $\square \times 8 = 48$

④  $\square \div 7 = 4$

😊 😊 😞 😞

**( 式と計算の順じよ ) の学習をふりかえって**

★ この学習は楽しかったですか。

( はい まあまあ 少し いいえ )

● 感想を自由にかきましょう。(じゅぎょうの中で、おもしろかったことや気づいたことなど)

◆ この学習はよくわかりましたか。

( はい まあまあ 少し いいえ )