

◆各問題について、自分で自信があるかないか、マークに○をつけましょう。

😊自信あり 😊まあまあ自信あり 😞少し自信なし 😞自信なし

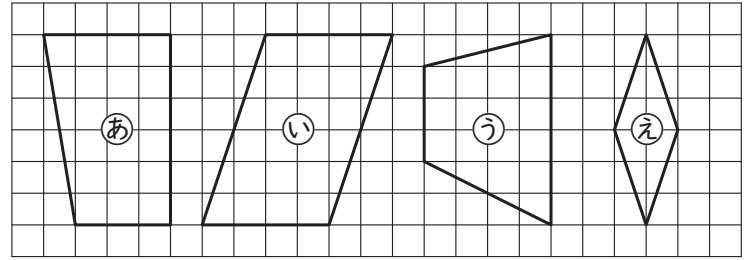
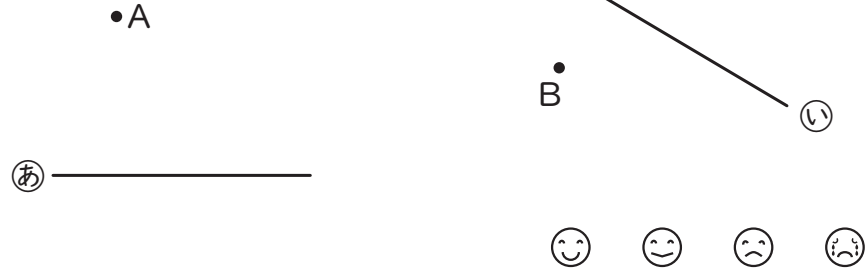
4年

5. 垂直・平行と四角形

| | |
|-----|----|
| クラス | 名 |
| | 組前 |

① | 組の三角じょうぎを使って、点 A を通って、直線あに垂直な直線、点 B を通って、直線い に平行な直線をかきましょう。

④ 下の四角形の名前をかきましょう。



あ() い()
う() え()

😊 😊 😞 😞

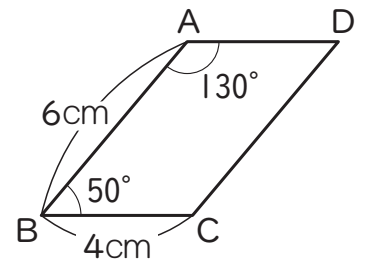
② たて 3cm、横 4cm の長方形を右にかきましょう。



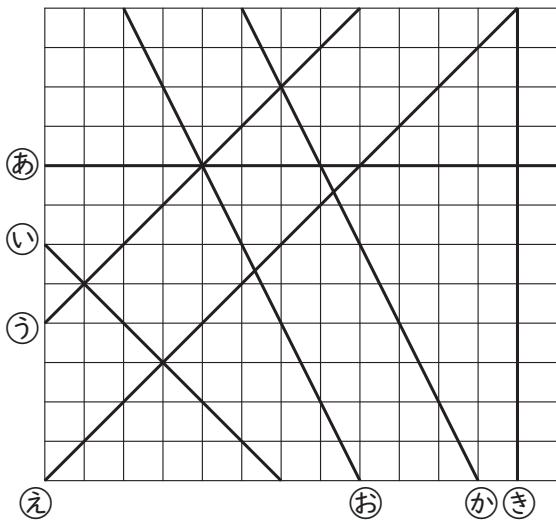
😊 😊 😞 😞

③ 下の図で、垂直な直線や平行な直線をすべてみつけて、記号で答えましょう。

⑤ 右の平行四辺形について、次の問題に答えましょう。



- ① 角 C の大きさは何度ですか。
()
- ② 角 D の大きさは何度ですか。
()
- ③ 辺 AD の長さは何 cm ですか。
()
- ④ 点 A と点 C を結んだ直線を何といいますか。
()
- 😊 😊 😞 😞

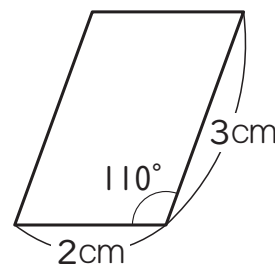


垂直 ▶ (と) (と) (と)

平行 ▶ (と) (と)

😊 😊 😞 😞

⑥ 下のような平行四辺形をかきましょう。



😊 😊 😞 😞

(垂直・平行と四角形) の学習をふりかえって

★ この学習は楽しかったですか。

(はい まあまあ 少し いいえ)

● 感想を自由にかきましょう。(じゅぎょうの中で、おもしろかったことや気づいたことなど)

◆ この学習はよくわかりましたか。

(はい まあまあ 少し いいえ)