

◆それぞれの問題について、マークに○をつけましょう。

😊自信あり 😊まあまあ自信あり 😞少し自信なし 😞自信なし

**3年**

**12. 何倍でしょう**

クラス	名
	組前

① ゴムで動く車の走った長さをくらべました。  
 青は 3 m、赤は 6 m 走りました。  
 青の走った長さの何倍が、赤の走った長さですか。下の図を見て、考えましょう。

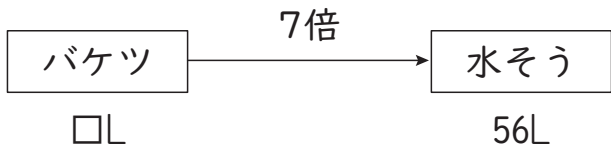


3 m の何倍かが 6 m だから、 $3 \times \square = 6$  の  $\square$  にあてはまる数をもとめることになります。  
 (式)

答え  倍

😊 😊 😞 😞

② バケツで水を運んで水そうをいっぱいにします。  
 7 回運んで、56 L はいる水そうがいっぱいになりました。  
 バケツには、何 L の水がはいりますか。



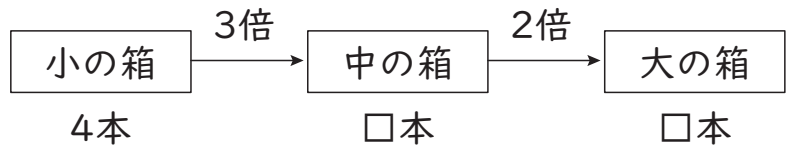
(式)

答え  L

😊 😊 😞 😞

③ 大、中、小の 3 しゅるいの箱があります。  
 小の箱にはえん筆が 4 本はいります。中の箱には小の箱の 3 倍、大の箱には中の箱の 2 倍はいります。  
 大の箱にはえん筆が何本はいりますか。  
 2 とおりの考え方でもとめましょう。

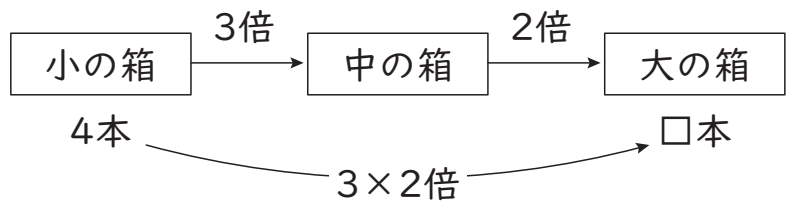
① まず、中の箱が何本になるかを考えましょう。



(式)

答え  本

② さきに大の箱が小の箱の何倍になるかを考えましょう。



(式)

答え  本

😊 😊 😞 😞

**( 何倍でしょう ) の学習をふりかえって**

★ この学習は楽しかったですか。

( はい まあまあ 少し いいえ )

● じゅぎょうの中で、おもしろかったことやわかったことなどのかんそうをかきましょう。

◆ この学習はよくわかりましたか。

( はい まあまあ 少し いいえ )