

◆それぞれの問題について、マークに○をつけましょう。

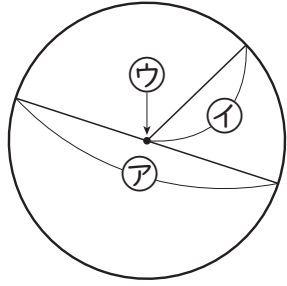
😊 じしん自信あり 😊 まあまあ自信あり 😞 少し自信なし 😞 じしん自信なし

3年

11. 円と球

クラス	名
	組前

① コンパスで、右のよ
うな円をかきました。



① ア、イ、ウを、そ
れぞれ円の何とい
いますか。

ア イ ウ

② イの長さが5cmのとき、アの長さは何cmで
すか。

cm

😊 😊 😞 😞

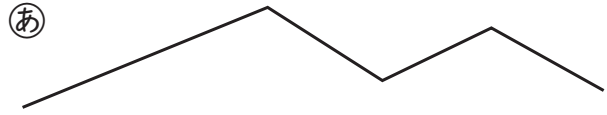
② ・を中心として、次の円をかきましょう。

① はんけい半径3cmの円 ② ちよっけい直径4cmの円



😊 😊 😞 😞

③ 下のあ、いのどちらが長いですか。
コンパスで、長さを写しとってくらべましょう。




のほうが長い。

😊 😊 😞 😞

④ □にあてはまること
ばをかきましょう。

① きゅう球をどこで切っ
ても、切り口の形は

になります。

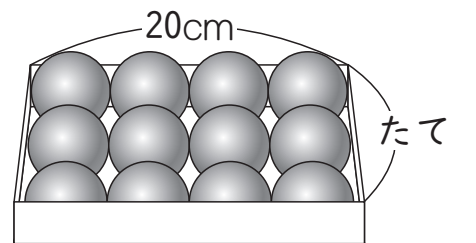


② 球の切り口の形がいちばん大きくなるのは、
球の を通るように切ったときです。

😊 😊 😞 😞

⑤ 下の図のように、箱にぴったりボールがはい
ているとき、箱のたての長さは何cmですか。

しき(式)



答え cm

😊 😊 😞 😞

(円と球) の学習をふりかえって

★ この学習は楽しかったですか。

(はい まあまあ 少し いいえ)

● じゆぎょうの中で、おもしろかったことやわかったことなどのかんそうを
かきましょう。

◆ この学習はよくわかりましたか。

(はい まあまあ 少し いいえ)