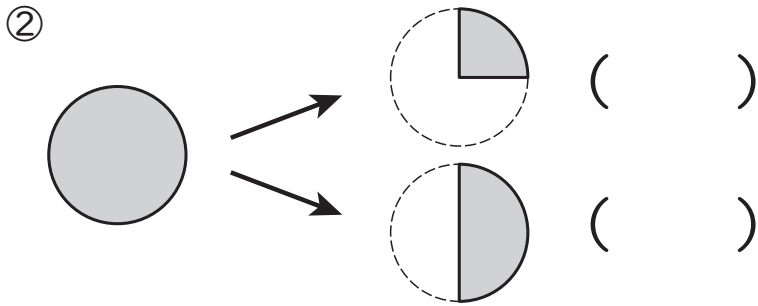
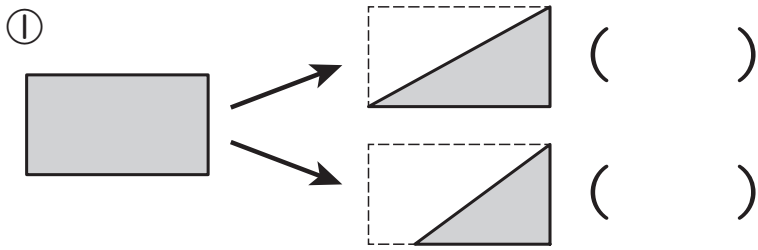


2年

17. 分数

く		名	
み		まえ	

- ① ^{はんぶん} 半分の大きになっ ているほうに
まる ○ をつけましよう。



- ② □ にあてはまる ^{かず} 数や ^{おな} ことばをかきましよう。

- ① もとの大きさを ^{おな} 同じ大きさに

□ つに分けた 1 つ分を、もとの

大きさの 二分の一と いい、

と かきます。

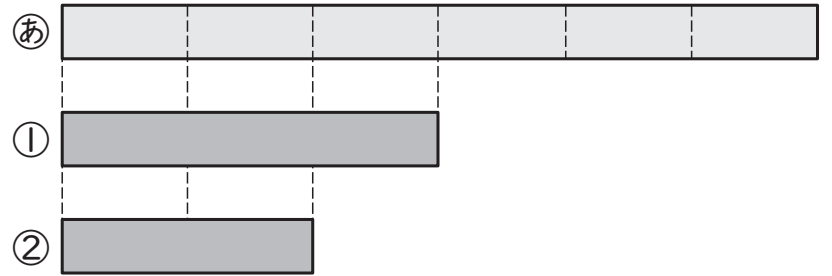
- ② $\frac{1}{2}$ や $\frac{1}{4}$ の ような 数を

と いいます。


- ③ $\frac{1}{3}$ の □ つ分は もとの

大きさに なります。

- ③ ① の $\frac{1}{2}$ の大きになっ ているのは
どれですか。




- ④ 1 はこに 24 こ入りのおかしが ありま
す。図を見て、□ にあてはまる 数
をかきましよう。



- ① 24 この $\frac{1}{2}$ の大きさは □ こ。

- ② 24 この $\frac{1}{3}$ の大きさは □ こ。

- ⑤ つぎのテープの $\frac{1}{4}$ の大きさに ^{いろ} 色を
ぬりましよう。



(分数) の 学しゅうを ふりかえって

★ この学しゅうは たのしかったですか。

(はい まあまあ すこし いいえ)

◆ この学しゅうは よく わかりましたか。

(はい まあまあ すこし いいえ)

● じゅぎょうの 中で、おもしろかった ことや わかった ことなどの
かんそうを かきましよう。