

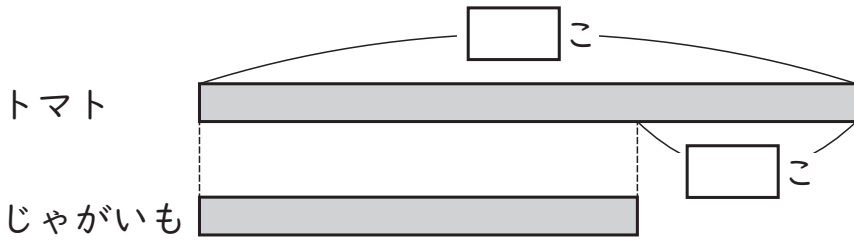
2年

＊ 見方・考え方を ふかめよう (3) かっても まけても!

く	名
み	まえ

① トマトが 18こ あります。
 トマトは、じゃがいもより 6こ 多い そうです。
 じゃがいもは 何こ ありますか。


① 下の 図の □ に あてはまる 数を かきましょう。



② 答えを もとめましょう。
 (しき)

(答え) こ

② みきさんの もって いる テープの 長さは 90cm です。
 みきさんの テープは、あかねさんの テープより 25cm 長いそうです。
 あかねさんの テープの 長さは 何cm ですか。
 図を かいて 考えましょう。

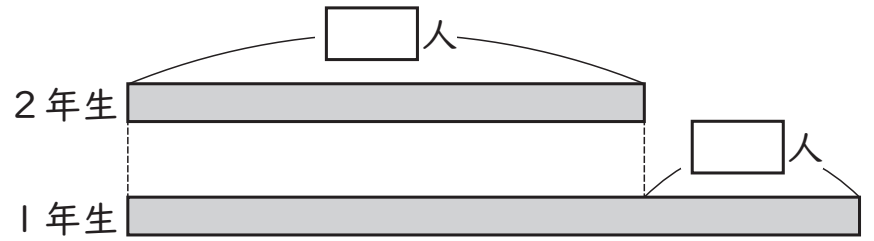


(しき)

(答え) cm

③ 公園に、2年生が 23人 います。
 2年生は、1年生より 11人 少ない そうです。
 1年生は 何人 いますか。

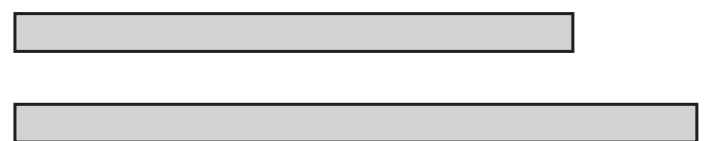
① 下の 図の □ に あてはまる 数を かきましょう。



② 答えを もとめましょう。
 (しき)

(答え) 人

④ けしゴムは 90円 です。
 けしゴムは、ノートより 20円 やすい そうです。
 ノートは 何円 ですか。
 図を かいて 考えましょう。



(しき)

(答え) 円

(見方・考え方を ふかめよう (3) ~ かっても まけても!) の 学しゅうを ふりかえって

★ この 学しゅうは たのしかったですか。

(はい まあまあ すこし いいえ)

◆ この 学しゅうは よく わかりましたか。

(はい まあまあ すこし いいえ)

● じゅぎょうの 中で、おもしろかった ことや わかった ことなどの かんそうを かきましょう。