


2年

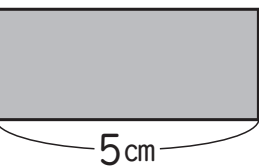
10. かけ算 (1)

く	名
み	まえ


① かけ算のしきにかいて答えをもとめましょう。

①  の 5 さら分
2こ

$$\square \times \square = \square \quad \square \text{ こ}$$

②  の 4 本分
5cm

$$\square \times \square = \square \quad \square \text{ cm}$$

③  の 5 ばい
4まい

$$\square \times \square = \square \quad \square \text{ まい}$$

② つぎの計算をしましょう。

① 5×2

② 2×3

③ 3×3

④ 4×5

⑤ 3×6

⑥ 2×4

⑦ 5×8

⑧ 4×7

⑨ 4×9


⑩ 2×6

⑪ 5×6

⑫ 3×8

③ 1つのふくろに
チョコレートが 4こ
ずつはいています。

8ふくろでは何こ
になりますか。



(しき)

(答え) こ

④ 高さ 5mm の いたを 7まい つむと、ぜんぶで高さは何 mm になりますか。

(しき)

(答え) mm

⑤ おり紙を 9まい 買います。
1まい 2円 の おり紙を 買うと、何円に
なりますか。

(しき)

(答え) 円

(かけ算 (1)) の 学しゅうを ふりかえって

★ この学しゅうは たのしかったですか。

(はい まあまあ すこし いいえ)

◆ この学しゅうは よく わかりましたか。

(はい まあまあ すこし いいえ)

● じゅぎょうの 中で、おもしろかった ことや わかった ことなどの
かんそうを かきましょう。