

2年



見方・考え方を ふかめよう (2)

* こんにちは さようなら

く		名	
み		まえ	


- ① けんじさんは ビー玉を 20こ もって いました。

きのう お姉^{ねえ}さんから 6こ もらいました。
きょうも 7こ もらいました。

けんじさんは いま ビー玉を 何^{なん}こ もっ て いますか。

□に あてはまる 数^{かず}を かきましょう。

- ① もらった じゅんに たして もとめま しょう。



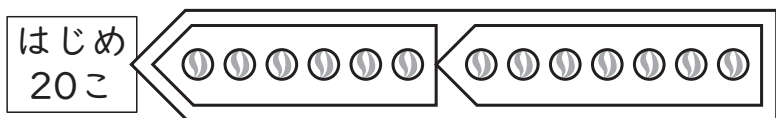
(しき)

$$20 + \square = \square$$

$$\square + 7 = \square$$

(答え) □ こ

- ② 何こ ふえたかを まとめて 考^{かんが}えて も とめましょう。



(しき)

$$6 + \square = \square$$

$$20 + \square = \square$$

(答え) □ こ


- ② まとめて 考^{かんが}えて もとめましょう。

- ① すずめが 12わ いました。

そこへ 9わ と んで きました。

また 5わ と んで きました。

すずめは 何わに なりましたか。



(しき)

(答え) □ わ

- ② スーパーで 買^かいものをして いる 人 が 17人 いました。

そこへ 11人^き 来ましたが、しばらくし て 7人^{かえ} 帰りました。

買いものをして いる 人は 何人^{なん}に な りましたか。

(しき)

(答え) □ 人

(見方・考え方を ふかめよう (2) ~ こんにちは さようなら) の 学しゅうを ふりかえって

★ この 学しゅうは たのしかったですか。

(はい まあまあ すこし いいえ)

◆ この 学しゅうは よく わかりましたか。

(はい まあまあ すこし いいえ)

● じゅぎょうの 中で、おもしろかった ことや わかった ことなどの かんそうを かきましょう。