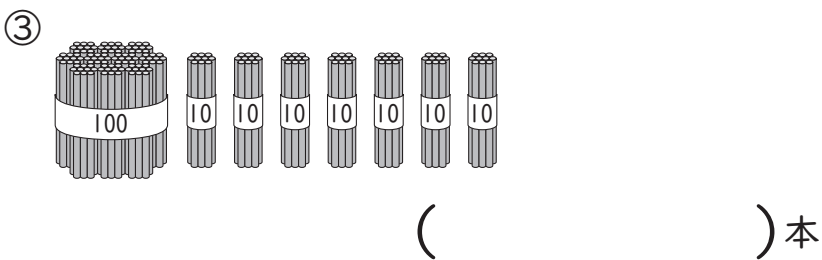
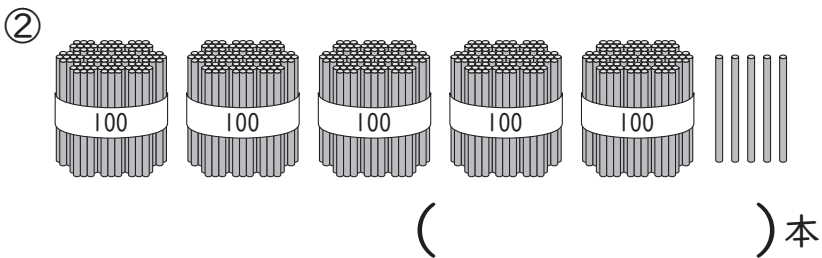
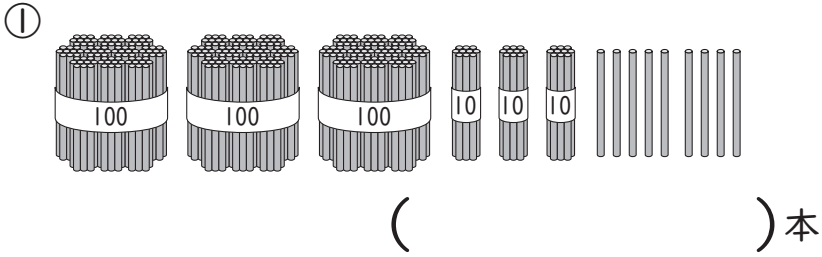


2年

## 6. 100をこえる数

く		名	
み		まえ	

① 何本なんぼん ありますか。数字ですうじ かきましょう。



② □ に あてはまる 数かずを かきましょう。

① 五百三十五を 数字で かくと □  
( )

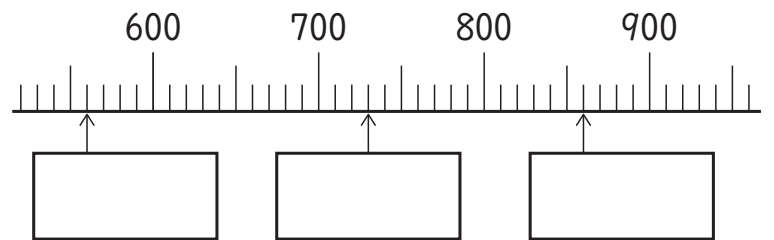
② 九百九を 数字で かくと □  
( )

③ 100を 6こ、10を 7こ、1を 8こ  
あわせた 数は □  
( )

④ 10を 59こ あつめた 数は □  
( )

⑤ 900は 10を □こ あつめた 数  
( )

③ □ に あてはまる 数 を かきましょう。



④ 2つの 数を くらべて、□ に >か <  
を かきましょう。

① 274 □ 328

② 778 □ 765

⑤ つぎの 計算を しましょう。

①  $50 + 90$

②  $200 + 800$

③  $700 - 400$

④  $1000 - 600$

⑥ □ に あてはまる >、<、= を かきま  
しょう。

①  $30 + 80$  □ 100

② 100 □  $170 - 60$

② 90 □  $40 + 50$

## ( 100をこえる数 ) の 学しゅうを ふりかえって

★ この 学しゅうは たのしかったですか。

( はい まあまあ すこし いいえ )

◆ この 学しゅうは よく わかりましたか。

( はい まあまあ すこし いいえ )

● じゅぎょうの 中で、おもしろかった ことや わかった ことなどの  
かんそうを かきましょう。