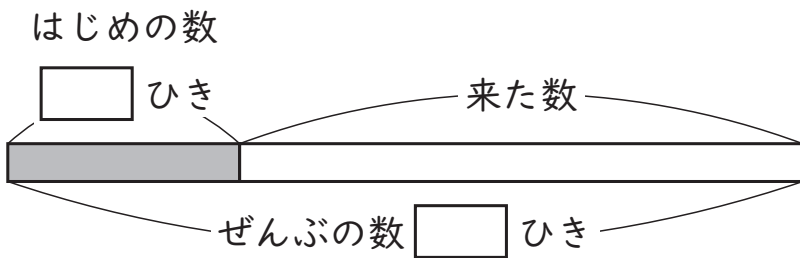


2年

見方・考え方を ふかめよう (1)  
 ＊ ほうかご 何する？

く		名	
み		ま	

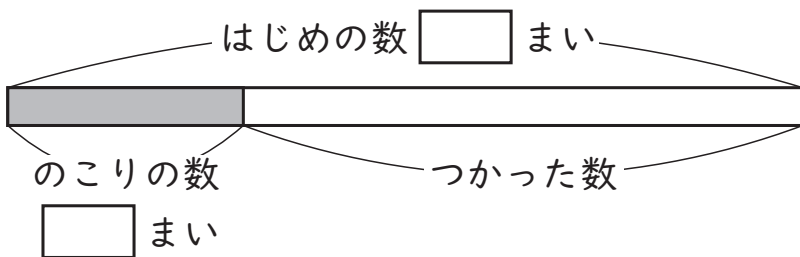
- ① 川に <sup>さかな</sup>魚が 7 ひき およいで います。  
 そこへ <sup>なん</sup>何ひきか 来たので、ぜんぶで  
 24 ひきに なりました。  
 何ひき 来ましたか。  
 図の □ に あてはまる <sup>かず</sup>数を かいて  
 考えましょう。



(しき)

(答え)  ひき

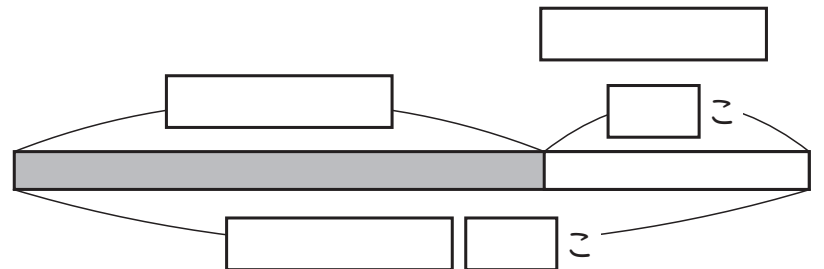
- ② <sup>いろがみ</sup>色紙が 27 まい ありました。  
 ひこうきをおるのに 何まいか つかった  
 ので、のこりが 8 まいに なりました。  
 何まい つかいましたか。  
 図の □ に あてはまる 数を かいて  
 考えましょう。



(しき)

(答え)  まい

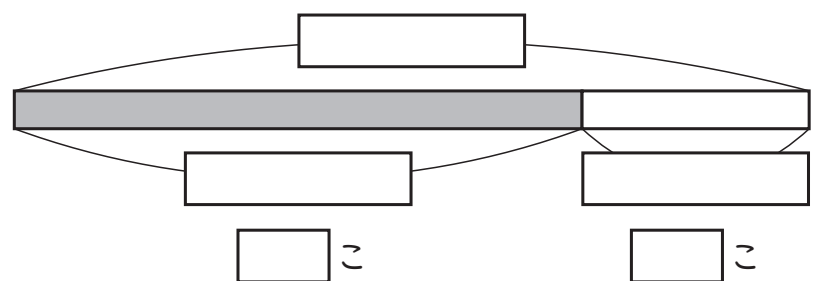
- ③ みかんが 何こか あります。  
 14 こ もらったので、42 こに なりまし  
 た。  
 はじめ 何こ ありましたか。  
 図に かいて 考えましょう。



(しき)

(答え)  こ

- ④ ケーキが あります。  
 きょう 6 こ たべたので、のこりが  
 15 こに なりました。  
 はじめ 何こ ありましたか。  
 図に かいて 考えましょう。



(しき)

(答え)  こ

( 見方・考え方を ふかめよう (1) ~ ほうかご 何する? ) の 学しゅうを ふりかえって

★ この 学しゅうは たのしかったですか。

( はい まあまあ すこし いいえ )

◆ この 学しゅうは よく わかりましたか。

( はい まあまあ すこし いいえ )

● じゅぎょうの 中で、おもしろかった ことや わかった ことなどの  
かんそうを かきましよう。