

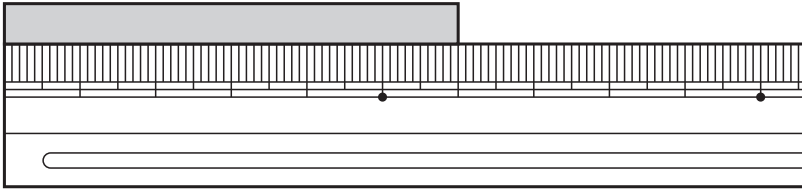
2年

4. 長さ

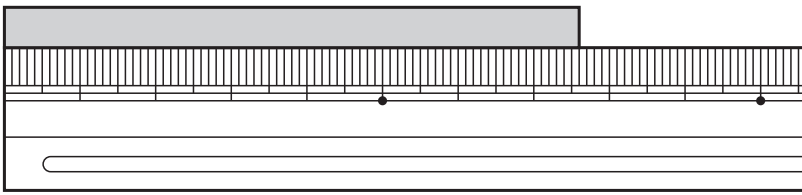
く		名	
み		まえ	

① テープの ^{なが}長さは どれだけですか。

①



②



② つぎの ^{ちよくせん}直線の 長さは ^{なん}何 cm 何 mm ですか。


また、何 mm と いえますか。

①



cm	mm	mm
----	----	----

②



cm	mm	mm
----	----	----

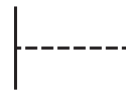
③ この プリントの たての 長さは どれくらいですか。

ものさしを つかわないうで、下の ㉠~㉤の中から えらびましょう。

- | | |
|-----------|-----------|
| ㉠ 15cmくらい | ㉡ 35cmくらい |
| ㉢ 50cmくらい | ㉣ 60cmくらい |

④ |----- を もとに して、つぎの 長さの 直線を かきましょう。

① 4cm



② 8cm8mm



⑤ つぎの ^{けいさん}計算を しましょう。

① 2cm4mm + 1cm4mm

② 4cm6mm + 4mm

③ 9cm5mm - 6cm

④ 7cm3mm - 4cm3mm

(長さ)の 学しゅうを ふりかえって

★ この 学しゅうは たのしかったですか。

(はい まあまあ すこし いいえ)

◆ この 学しゅうは よく わかりましたか。

(はい まあまあ すこし いいえ)

● じゅぎょうの 中で、おもしろかった ことや わかった ことなどの かんそうを かきましょう。