
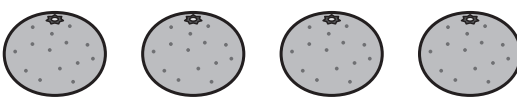






1ねん


1. かずと すうじ


く		な	
み		ま	

① いくつ ありますか。
すうじで かきましょう。



	
	
	
	
	
	



② いくつ ありますか。
すうじで かきましょう。



① 

② 

③ どちらが おおきい ですか。
か。おおきい ほうに ^{まる}○を
つけましょう。

①  

②  

③  

④ どちらが おおきい ですか。
か。おおきい ほうの すう
じを かきましょう。

①

②

③

「かずと すうじ」の がくしゅうは
たのしかったですか？



「かずと すうじ」の がくしゅうは よく
わかりましたか？





1ねん


2. なんばんめ


く		なまえ	
み			

① えをみて こたえましょう。




①  は みぎから なんばんめですか。
 ばんめ

②  は ひだりから なんばんめですか。
 ばんめ

③  は みぎから なんばんめですか。
 ばんめ

② まえから 2ばんめを ^{まる}○で かこみましょう。




③ うしろから 3だいを ^{まる}○で かこみましょう。




④ なんばんめでしょう。
 うえ



① はとは うえから ばんめ



② ふくろうは したから ばんめ



した

「なんばんめ」の がくしゅうは たのしかったですか？



「なんばんめ」の がくしゅうは よく わかりましたか？

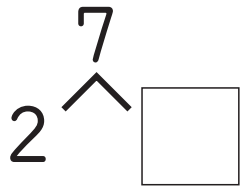
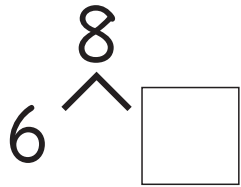
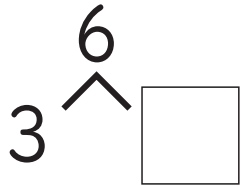
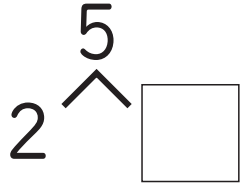



1ねん

3. いくつと いくつ

く		な	
み		ま	

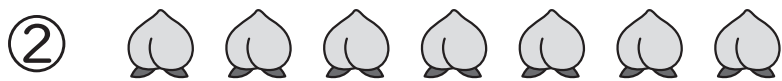
① いくつと いくつですか。



② あと いくつで 10 になりますか。



あと つ



あと つ

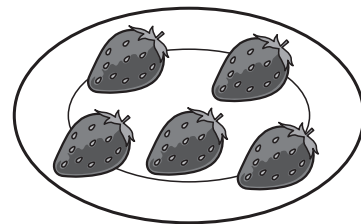
③ せん で つないで

10 に しましょう。




④ いちごの かずを かきましょう。

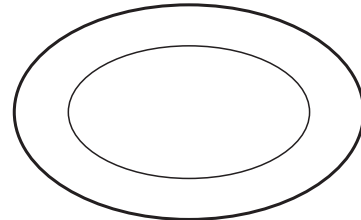
①



②



③



「いくつと いくつ」の がくしゅうは たのしかったですか？



「いくつと いくつ」の がくしゅうは よく わかりましたか？

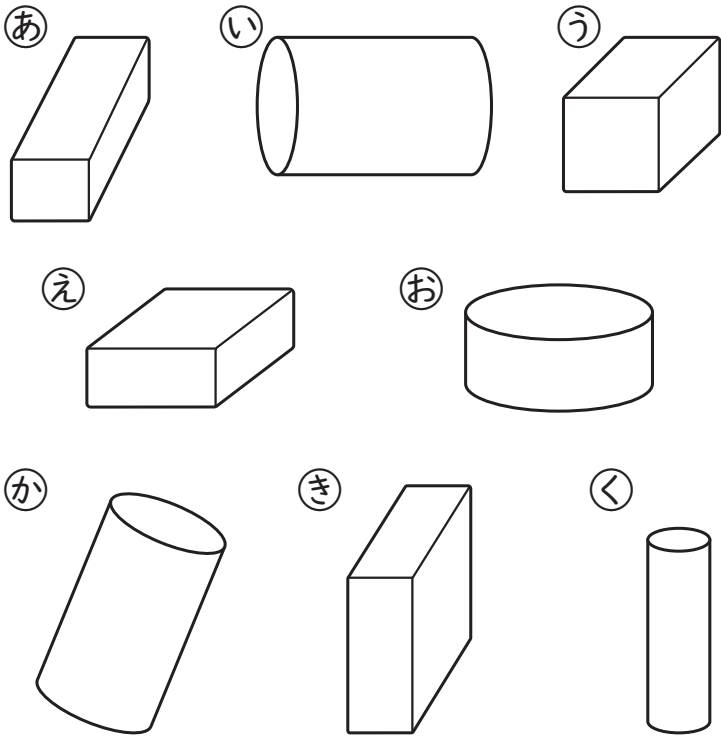



1ねん

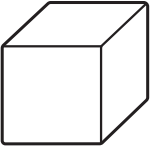
4. いろいろな かたち

く		な	
み		ま	

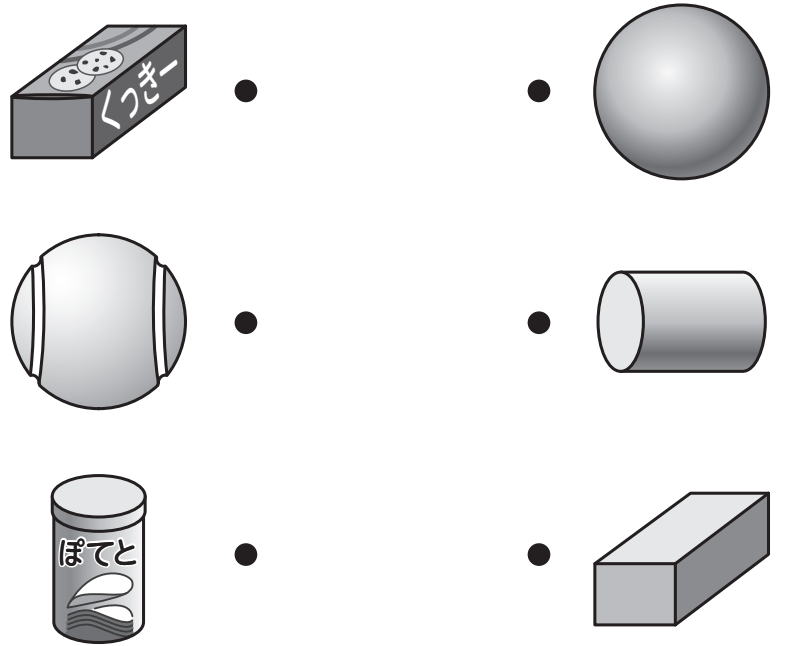
① したの かたちを ふたつの なかまに わけて こたえま しょう。



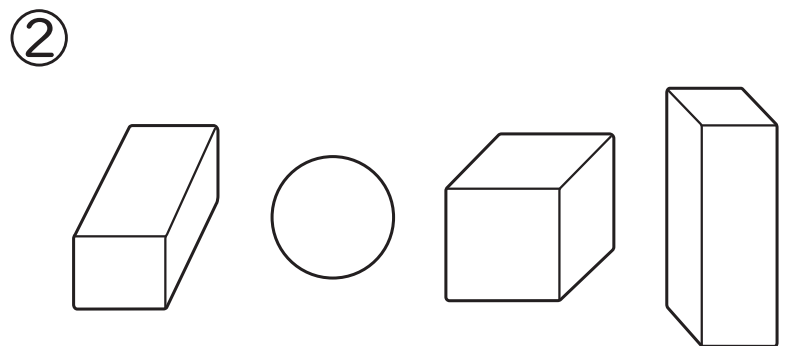

①  の なかま

②  の なかま

② につ いて いる かたちを せん で つなぎま しょう。



③ なかまが ちがう かたちを ^{まる}○で かこみま しょう。



「いろいろな かたち」の がくしゅうは たのしかったですか？



「いろいろな かたち」の がくしゅうは よく わかりましたか？

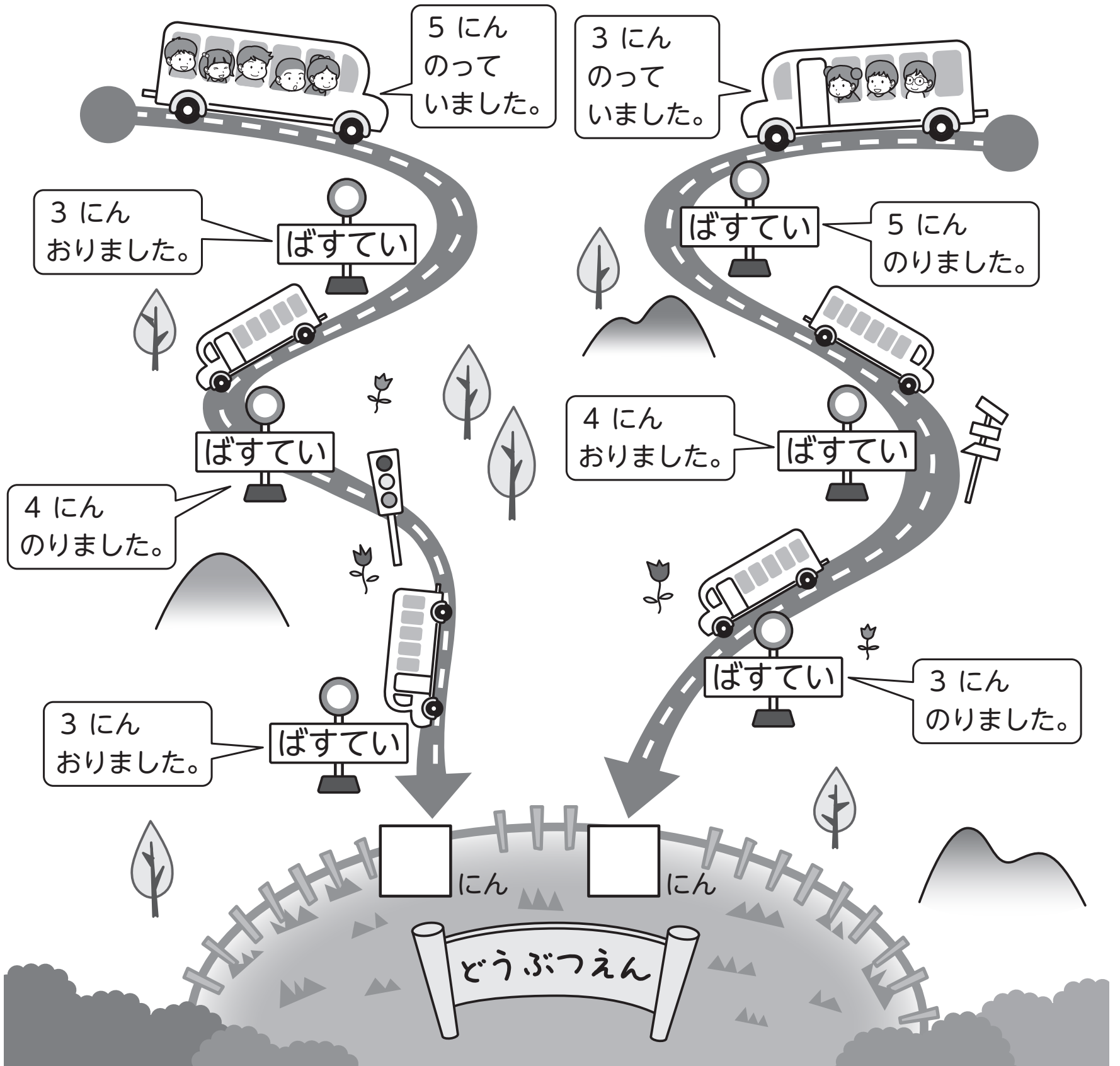


1ねん

5. ふえたり へったり

く	なまえ
み	

① どうぶつえんいきの ばすが しゅっぱつします。
 どうぶつえんに ついた ときのおきやくさんの かずを
 かきましょう。(ぶろっくを つかって かぞえましょう。)



「ふえたり へったり」の がくしゅうは たのしかったですか？

「ふえたり へったり」の がくしゅうは よく わかりましたか？



1ねん

6. たしざん (1)

く		な	
み		まえ	

① たしざんを しましょう。

① $4 + 1$

② $2 + 5$

③ $3 + 3$



④ $2 + 3$

⑤ $6 + 2$

⑥ $5 + 3$

⑦ $1 + 8$

⑧ $9 + 1$

② しきに かいて こたえま
しょう。① あわせて なんこに
なりますか。

しき

こたえ こ② あひるが 5わ
いました。4わ ふえると
ぜんぶで なんわに
なりますか。

しき

こたえ わ③ こたえが 10になる かあどに ^{まる}○を つけましょう。

$4 + 5$

$6 + 3$

$8 + 2$

$7 + 3$

$3 + 4$

()

()

()

()

()

「たしざん (1)」の がくしゅうは
たのしかったですか？「たしざん (1)」の がくしゅうは
よく わかりましたか？

1ねん

7. ひきざん (1)

く		な	
み		まえ	

① ひきざんを しましょう。

① $5 - 2$

② $9 - 4$


③ $10 - 6$

④ $7 - 3$


⑤ $8 - 6$

② しきに かいて こたえま
しょう。あめが 8こ ありました。
3こ たべると、なんこ
のこりますか。

しき

こたえ こ③ しきに かいて こたえま
しょう。いぬの ほうが なんびき
おおいですか。

しき

こたえ ひき④ つぎの えを みて
おはなしを つくりましょう。 $7 - 4 = 3$ の しきになる
おはなしを つくりましょう。

おはなし


「ひきざん (1)」の がくしゅうは
たのしかったですか？「ひきざん (1)」の がくしゅうは
よく わかりましたか？

1ねん

8. かずしらべ

く		な	
み		ま	

① かずを せいりして
しらべましょう。




したから いろを ぬりま
しょう。

いちご	みかん	あめ

- ① いちご こ
- ② みかん こ
- ③ あめ こ

② かずを せいりして
しらべましょう。



したから いろを ぬりま
しょう。

ぞう	うし	ぶた	いぬ

- ① いちばん おおいのは
どれですか。
- ② いちばん すくないのは
どれですか。

「かずしらべ」の がくしゅうは
たのしかったですか？



「かずしらべ」の がくしゅうは
よく わかりましたか？

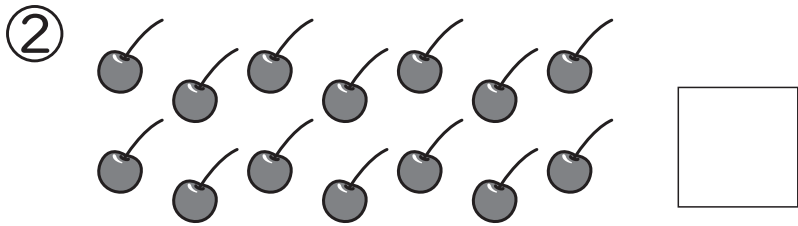



1ねん

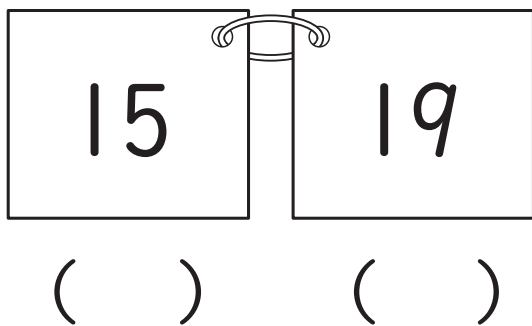
9. 10より おおきい かず

く		な	
み		ま	

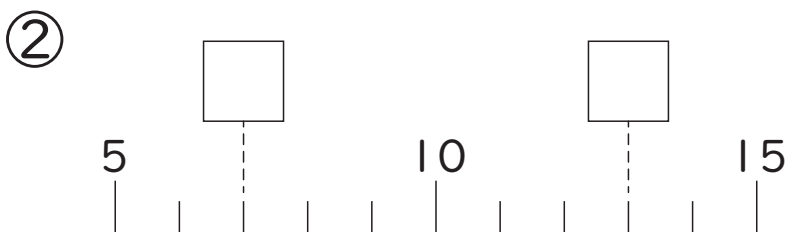
① かずを すうじで かきま
しょう。



② かずの おおきい ほうに
まる○を つけましょう。



③ □に かずを かきましよう。



④ けいさんを しましよう。

① $10 + 10$

② $13 + 5$

③ $17 - 7$

④ $18 - 5$

⑤ しきに かいて こたえま
しょう。

① いろがみが 13まい
あります。2まい つかう
と、なんまい のこりますか。
しき

こたえ まい

② えんぴつが 15ほん
あります。4ほん もらう
と、なんぼんに なります
か。
しき

こたえ ほん

「10より おおきい かず」の
がくしゅうは たのしかったですか？



「10より おおきい かず」の
がくしゅうは よく わかりましたか？




1ねん

10. なんじ なんじはん

く		な	
み		ま	


① とけいを よみましょう。



① ながい はりは を
さして います。

② みじかい はりは を
さして います。


② とけいを よみましょう。





① みじかい はりは
と の あいだを
さして います。


② ながい はりは
を さして います。

③ とけいを よみましょう。









④ とけいに ながい はり
を かきましょう。

① 3じ ② 9じはん



「なんじ なんじはん」の がくしゅうは
たのしかったですか？



「なんじ なんじはん」の がくしゅうは
よく わかりましたか？




1ねん


11. おおきさくらべ(1)

く		な	
み		ま	


① ながい ほうに ^{まる}○を つ
けましょう。


①

() 

() 

②

() 

() 

② いちばん たかい ものに
○を つけましょう。

きょうたく

ろっかあ

つくえ


たかさ


たかさ


たかさ

() () ()

③ ながい じゅんに ばんご
うを かきましょう。

() 

() 


() 


④ みずが おおく はいる
じゅんに かきましょう。


あ 




い 

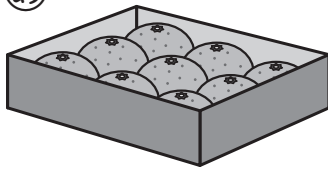



う 




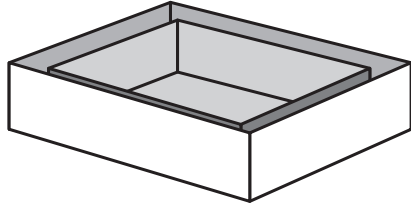



⑤ どちらの はこが おおき
い ですか。

あ 

い 







「おおきさくらべ(1)」の がくしゅう
は たのしかったですか？



「おおきさくらべ(1)」の がくしゅうは
よく わかりましたか？



1ねん

12. 3つのかずのけいさん

く		な	
み		ま	

① けいさんを しましょう。

① $2 + 3 + 4$

② $4 + 6 + 8$

③ $10 - 4 - 2$

④ $16 - 6 - 2$

⑤ $18 - 7 + 4$

⑥ $19 - 5 + 2$

⑦ $9 - 3 + 2$

⑧ $5 + 5 - 4$

⑨ $8 + 1 - 2$

⑩ $12 + 6 - 8$

② しきに かいて 答え
ましょう。① はじめに こうえんに
こどもが 10にん いま
した。つぎに 4にん か
えりました。その つぎに
3にん かえりました。な
んにんに なりましたか。

しき

答え にん② おかしが ひだりの
はこに 3こ、みぎの
はこに 6こ はいって
います。4こ たべると、
なんこに なりますか。

しき

答え こ「3つの かずの けいさん」の
がくしゅうは たのしかったですか？「3つの かずの けいさん」の
がくしゅうは よく わかりましたか？

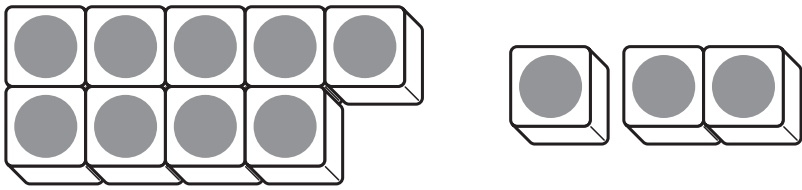
1ねん

13. たしざん (2)

く		な	
み		ま	

- ① □にはいるかずをかきましょう。
う。

9 + 3のけいさんのしかた



3を□と2にわける。

9に□をたして10です。

10と□で□です。

- ② たしざんをしましょう。

① $9 + 4$

② $7 + 5$

③ $9 + 7$

④ $5 + 6$

⑤ $7 + 8$

⑥ $2 + 9$

⑦ $8 + 8$

⑧ $6 + 7$

- ③ くるまが8だいとまっています。
4だいくると、なんだいに
なりますか。

しき

こたえ □ だい

- ④ あかい はなが 5ほん、しろい
はなが 9ほん あります。

あわせて なんぼん ありますか。

しき

こたえ □ ほん

- ⑤ こたえが 15になるかあどに
まる○をつけましょう。

$$9 + 8$$

()

$$8 + 7$$

()

$$8 + 6$$

()

$$6 + 6$$

()

$$9 + 6$$

()

$$5 + 8$$

()

「たしざん (2)」の がくしゅうは
たのしかったですか？




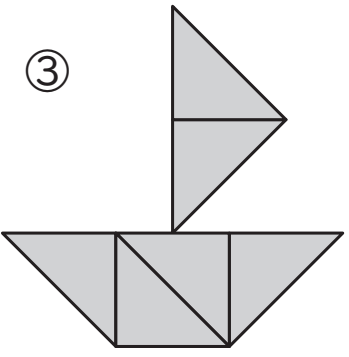
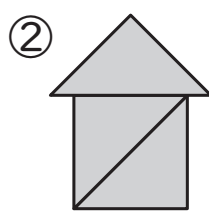
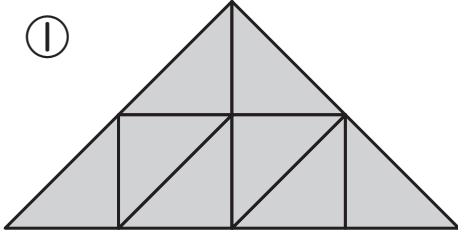
「たしざん (2)」の がくしゅうは
よく わかりましたか？

1ねん

14. かたちづくり

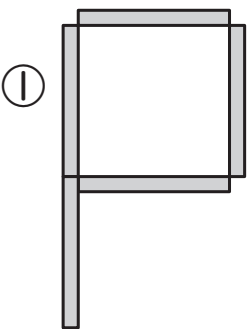
く		な	
み		ま	

①  の いろいろいたを なんまい つかうと、したの かたちを つくれま するか。

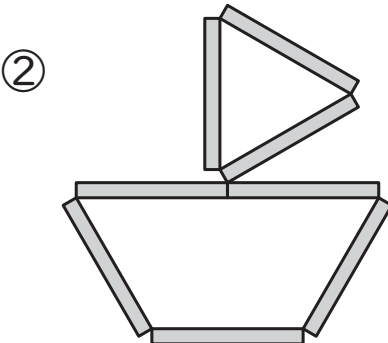


- ① まい
- ② まい
- ③ まい

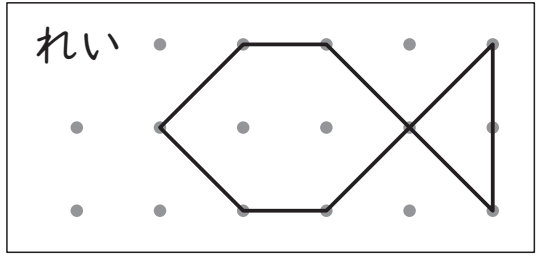
② ぼうを ならべて、したの かたち を つくりま す。 ぼうは なんぼん つかいま すか。

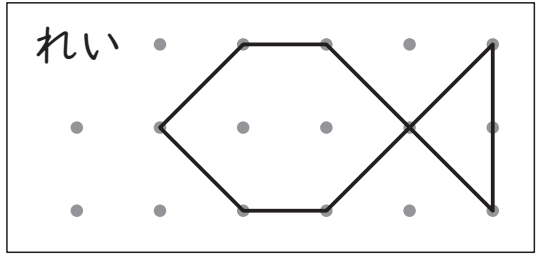


ほん

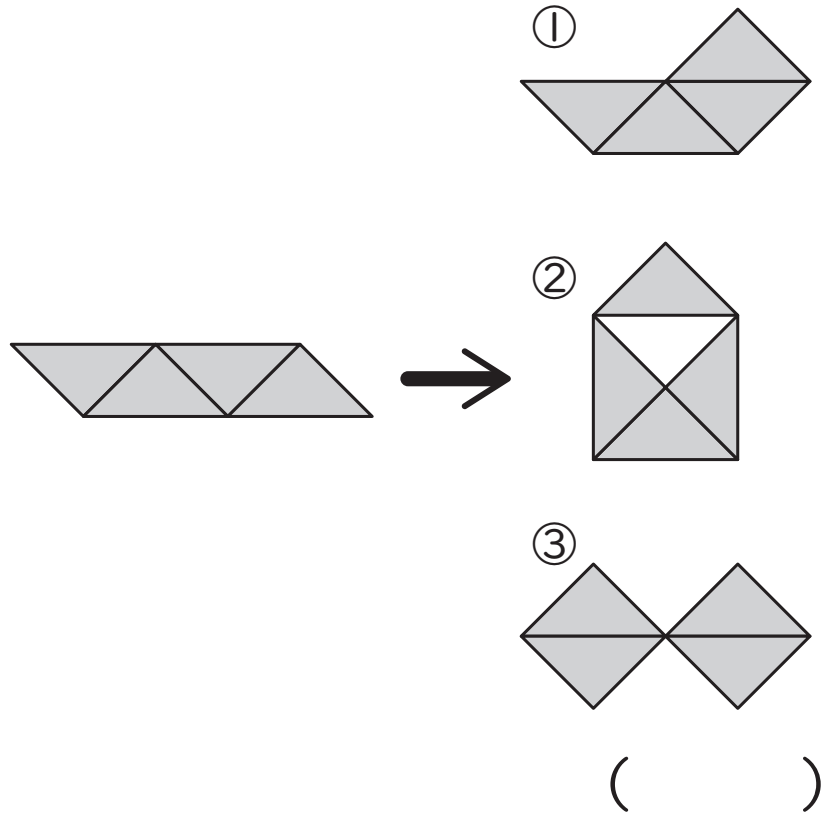


ほん

③  を つないで、れいとおなじ かたちを かきましょ う。



④ いろいろいたを 1まいだけ うごかし て、かたちを かえると、どの かたち に なりま すか。



「かたちづくり」の がくしゅうは たのしかったで すか？



「かたちづくり」の がくしゅうは よく わかりましたか？

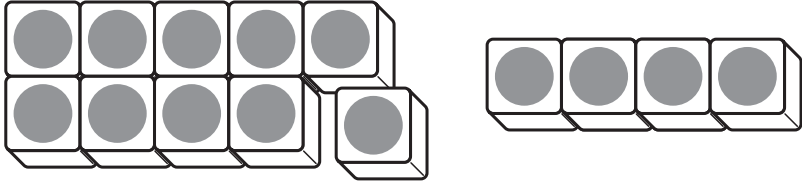


1ねん

15. ひきざん (2)

く		な	
み		ま	

- ① □にはいる かずを かきましょう。
14 - 9 の けいさんの しかた



14 を □ と 4 に わけます。

10 から □ を ひいて 1 です。

1 と □ で □ です。

- ② ひきざんを しましょう。

① $12 - 6$

② $11 - 8$

③ $15 - 8$

④ $17 - 8$

⑤ $12 - 4$

⑥ $11 - 3$

⑦ $18 - 9$

⑧ $14 - 6$

- ③ りんごが 13 こ あります。
5 こ たべると、のこりは なんこ
ですか。

しき

こたえ □ こ

- ④ こうえんに こどもが 16 にん、
おとなが 9 にん います。
どちらの ほうが なんにん
おおいですか。

しき

こたえ □ の ほうが
□ にん おおい。

- ⑤ こたえが 8 になる かあどに ^{まる}○
を つけましょう。

$13 - 5$

()

$12 - 8$

()

$16 - 9$

()

$17 - 8$

()

$14 - 7$

()

$11 - 3$

()

「ひきざん (2)」の がくしゅうは
たのしかったですか？



「ひきざん (2)」の がくしゅうは
よく わかりましたか？

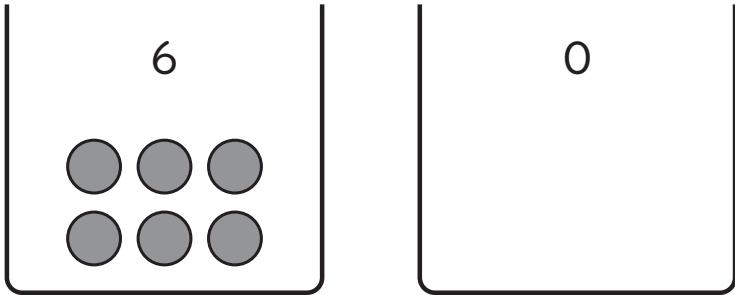
1ねん

16. 0のたしざんとひきざん

く		な	
み		ま	

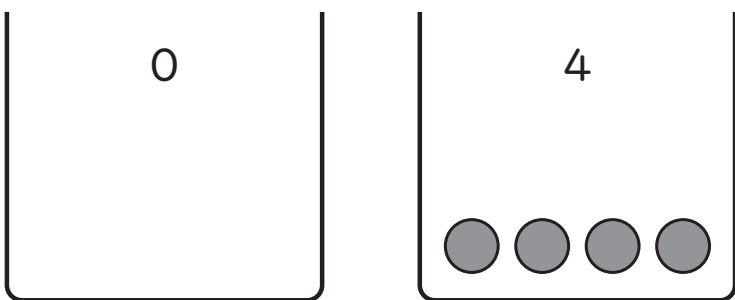
① あわせて なんこですか。□のなかに かずを かきましょう。

①



$$6 + \square = \square$$

②



$$\square + \square = \square$$

② つぎの けいざんを しましょう。

① $5 + 0$

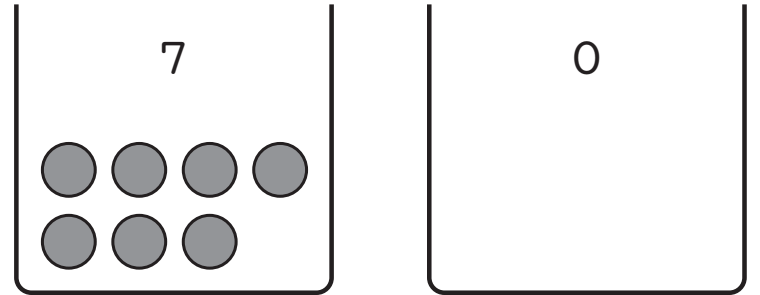
② $9 + 0$

③ $0 + 2$

④ $0 + 0$

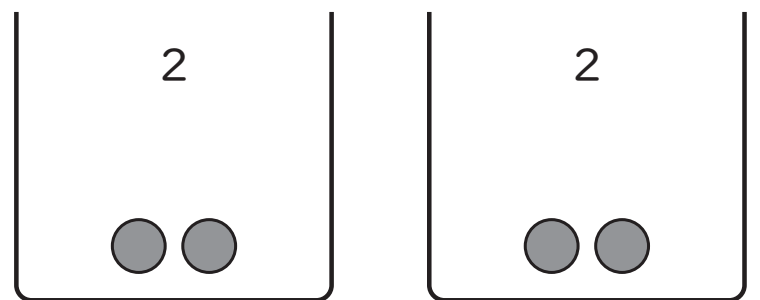
③ ちがいは なんこですか。□のなかに かずを かきましょう。

①



$$7 - \square = \square$$

②



$$\square - \square = \square$$

④ つぎの けいざんを しましょう。

① $4 - 4$

② $8 - 0$

③ $3 - 0$

④ $0 - 0$

「0の たしざんと ひきざん」の
がくしゅうは たのしかったですか？



「0の たしざんと ひきざん」の
がくしゅうは よく わかりましたか？




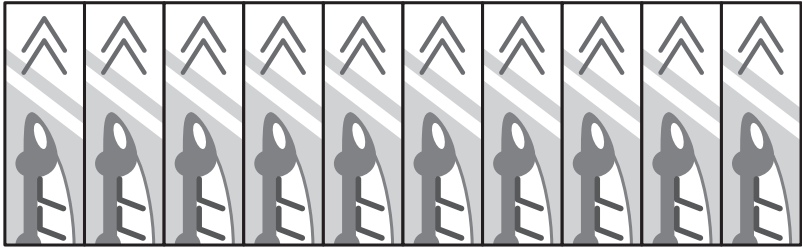
1ねん

17. ものと ひとの かず

く		な	
み		まえ	

① のりものの けんが 15まい あります。

9にんの こどもに 1まいずつ わたすと、 なんまい のこりますか。



しき

こたえ まい


② シャしんを とります。

7きやくの いすに ひとりずつ すわり、うしろに 8にん たちます。なんにんで シャしんを とりますか。

しき

こたえ にん

③ ひとりずつ ふねに のって います。



さやかさんの まえに 6にん います。

さやかさんは まえから なんばんめに いますか。

ばんめ

④ けんたさんは まえから 12ばんめに すわって います。けんたさんの うしろには 4にん います。

みんなで なんにん すわって いますか。

しき

こたえ にん

「ものと ひとの かず」の がくしゅうは たのしかったですか？



「ものと ひとの かず」の がくしゅうは よく わかりましたか？





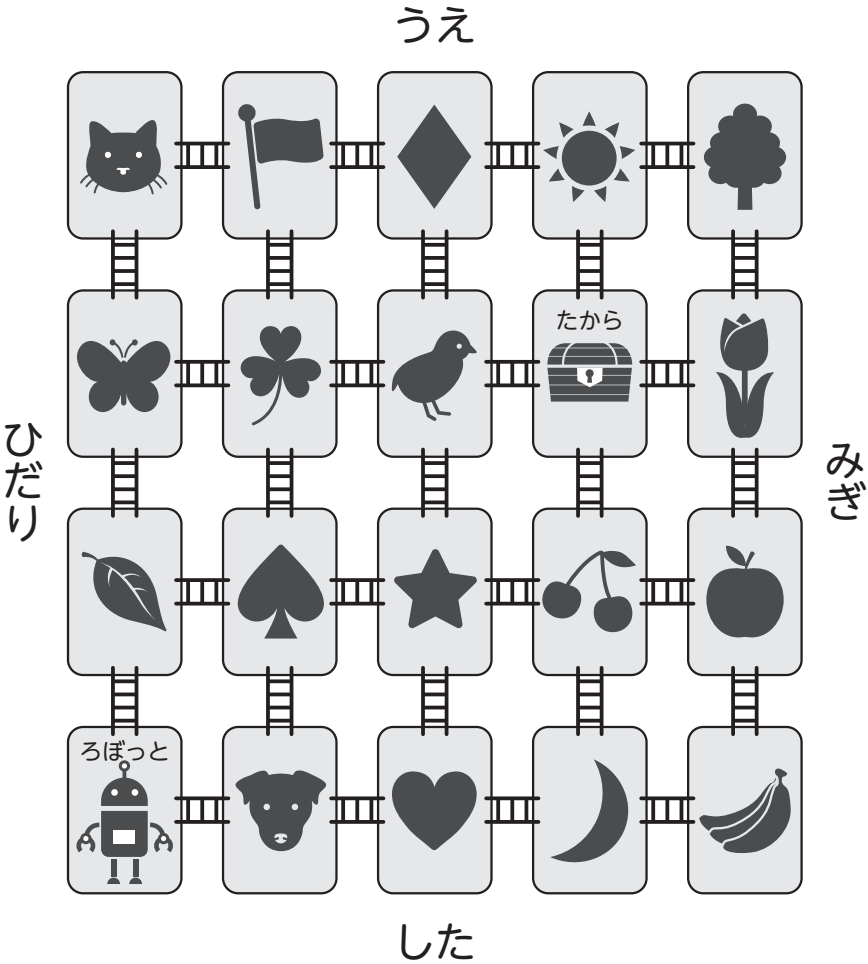
1ねん



＊ わくわく ぷろぐらみんぐ

く		な	
み		ま	

① **うえにすすむ** と **みぎにすすむ**

を つかって、 を  に うご
かします。□に はいる かずを か
きましょう。




 を  に うごかすには、**うえ**
にすすむ を □ かい、**みぎにす**
すすむ を □ かい つかいます。

② □に かずや ことばを 入れて、

 の いちを せつめいしましょう。



①  から ひだりに □ つ、
□ に 2つ

② ひだりから □ ばんめ
したから □ ばんめ

「わくわく ぷろぐらみんぐ」の
がくしゅうは たのしかったですか？



「わくわく ぷろぐらみんぐ」の
がくしゅうは よく わかりましたか？

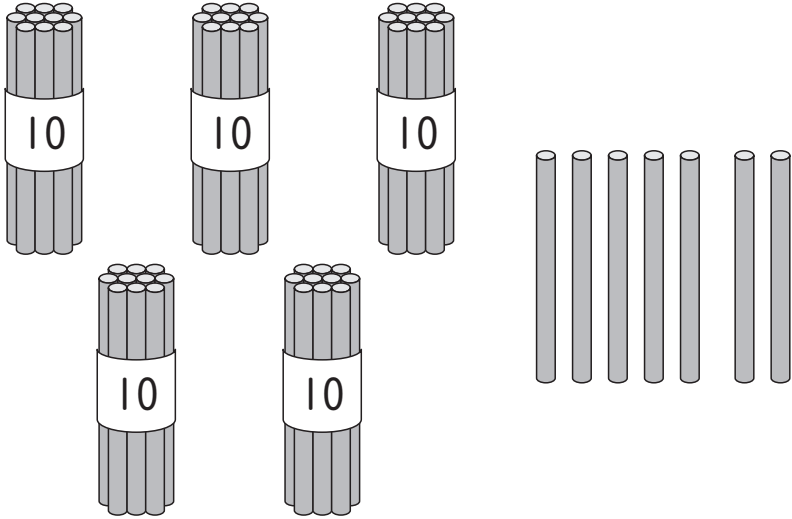


1ねん

18. 大きい かず

く		な	
み		ま	

① かずを すうじで かきましょう。



ほん本

② □にはいる かずを かきましょう。

① 十のくらいが 6、
一のくらいが 4 の かずは

② 10 が 8 つと
1 が 6 つで

③ 72 は 10 が つと
1 が つ

④ 10 が 10 こで

③ □にはいる かずを かきましょう。

①

92	93	94		
----	----	----	--	--

②

25	24		22	
----	----	--	----	--

③

113		115		117
-----	--	-----	--	-----

④ かずの 大きい ほうに ○を つ
けましょう。

57	48
()	()

89	94
()	()

⑤ つぎの したものの なかで
100 円で かえるものは どれと
どれですか。

えんぴつ のり はさみ けしごむ

86円	108円	129円	97円

「大きい かず」の がくしゅうは
たのしかったですか？



「大きい かず」の がくしゅうは
よく わかりましたか？



1ねん

19. なんじなんぷん

く		な	
み		ま	

① なんじなんぷんですか。

①



②



③



④



⑤



⑥



② とけいに ながい はりを かきま
しょう。

① 1じ45ふん



② 9じ34ふん



③ おなじ ものを えらびましょう。

①



②



あ 8:12

い 8:47

う 9:50

()

あ 10:08

い 8:33

う 9:33

()

「なんじなんぷん」の がくしゅうは
たのしかったですか？



「なんじなんぷん」の がくしゅうは
よく わかりましたか？

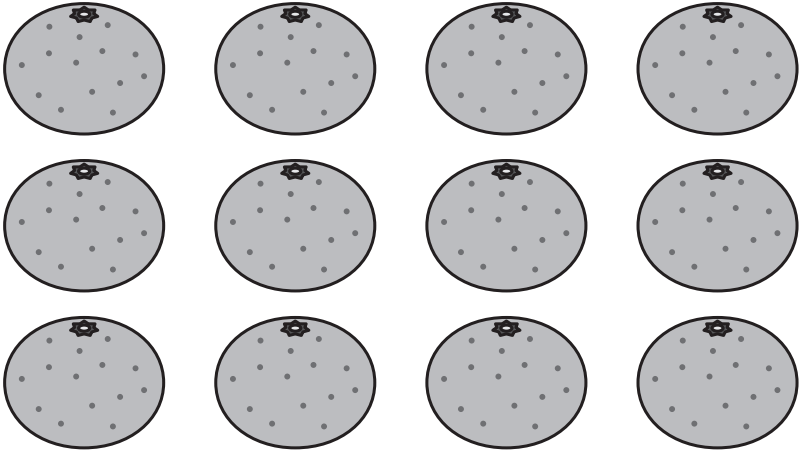


1ねん

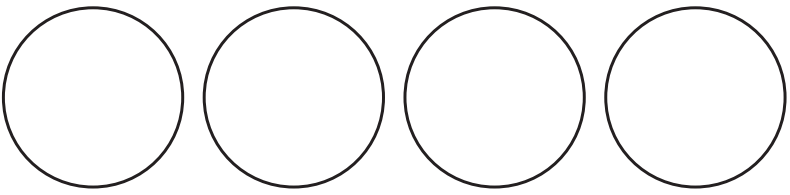
20. おなじ かずずつ

く		な	
み		ま	

① みかんが 12こ あります。4^{にん}人で
おなじ かずずつ わけると、1^{ひとり}人に
なんこずつ わけられますか。



① えに かいて かんがえましょう。

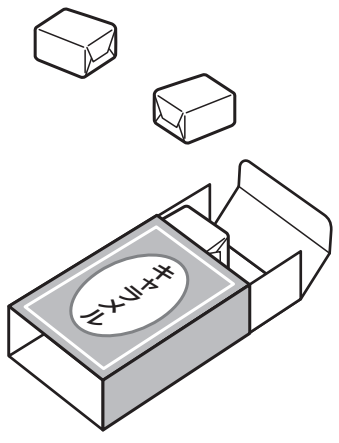


② しきに かいて たしかめましょう。

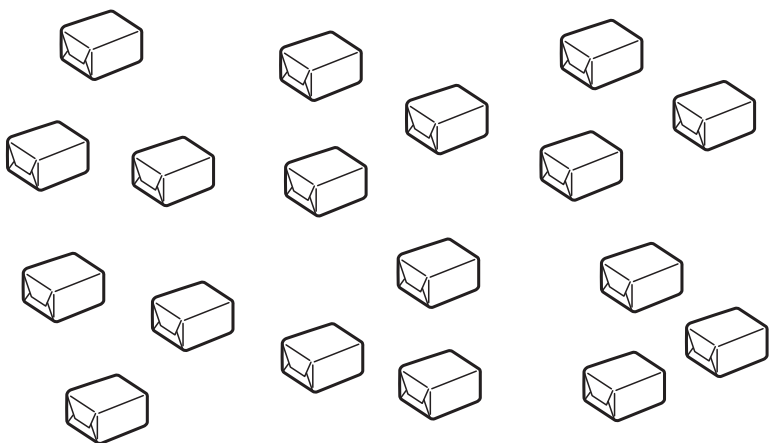
$$\square + \square + \square + \square = \square$$

1人に \square こずつ

② キャラメルが
18こ あります。
1人に 3こずつ
あげると、なん人に
あげられますか。



3こずつ \bigcirc ^{まる}で かこんで かんが
えましょう。



\square 人

「おなじ かずずつ」の がくしゅうは
たのしかったですか？



「おなじ かずずつ」の がくしゅうは
よく わかりましたか？



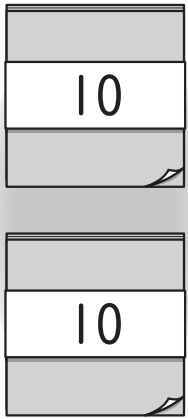
1ねん

21. 100までのかずのけいさん

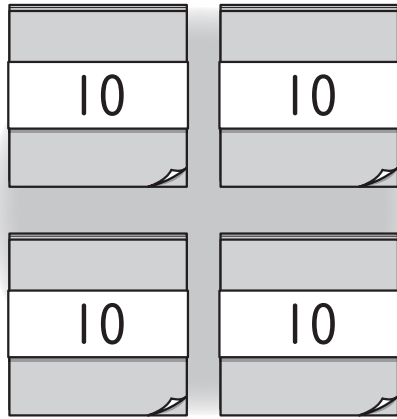
く		な	
み		ま	

- ① きいろのいろがみが20まいと
あかいろのいろがみが40まい
あります。あわせてなんまいですか。

きいろ



あかいろ





しき

こたえ まい

- ② つぎのけいさんをしましょう。

- ① $30 + 20$
② $60 + 40$
③ $80 - 40$
④ $70 - 10$
⑤ $100 - 30$

- ③ おはじきを37こもっています。
5こあげると、なんこのこり
ますか。



しき

こたえ こ

- ④ つぎのけいさんをしましょう。

- ① $32 + 2$
② $45 + 4$
③ $99 - 7$
④ $26 - 1$
⑤ $57 - 3$

「100までのかずのけいさん」の
がくしゅうは たのしかったですか？



「100までのかずのけいさん」の
がくしゅうは よくわかりましたか？




1ねん

22. おおいほうすくないほう

く		な	
み		ま	

① えをみてこたえましょう。

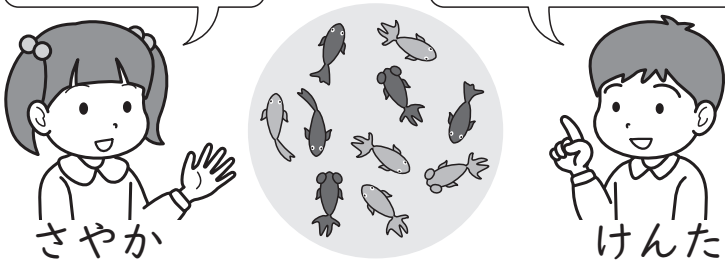
① つくしを 6本^{ほん}もっているよ。
 さやかさんより 3本 おおいよ。



けんたさんは つくしを なん本もっていますか。
 しき

こたえ 本

② きんぎよを 10ぴきすくったよ。
 さやかさんより 4ひきすくないよ。



けんたさんは きんぎよを なんひきすくいましたか。
 しき

こたえ ひき

② おはじきとりを しました。あつこさんは 9こ とりました。
 たくやさんは あつこさんより 5こ おおかったそうです。
 たくやさんは おはじきを なんこ とりましたか。

しき

こたえ こ

③ たくやさんの うえきばちに めが 12こ でました。
 あつこさんの うえきばちの めは たくやさんより 4こ すくなかったそうです。
 あつこさんの うえきばちに めは なんこ でましたか。

しき

こたえ こ

「おおいほうすくないほう」の がくしゅうは たのしかったですか？



「おおいほうすくないほう」の がくしゅうは よく わかりましたか？



1ねん

23. 大きさをくらべ (2)

く		な	
み		ま	

① ㉞と ㉞では どちらが ひろいで すか。

①

②

③

② ばしょとりゲームを しました。 かったのは どちらですか。

③ じゃんけんで かったら、□を 1つ ぬります。 かったのは どちらですか。

「大きさをくらべ (2)」のがくしゅうは たのしかったですか？



「大きさをくらべ (2)」のがくしゅうは よく わかりましたか？

