

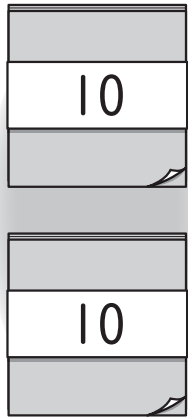
1ねん

## 21. 100までのかずのけいさん

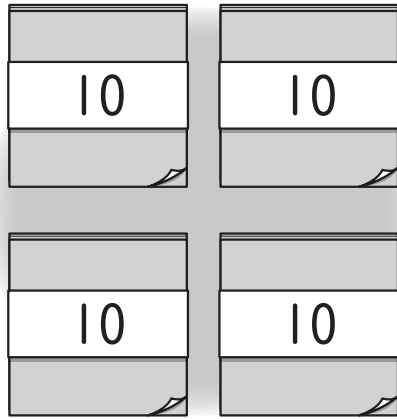
く		な	
み		ま	

- ① きいろのいろがみが20まいと  
あかいろのいろがみが40まい  
あります。あわせてなんまいですか。

きいろ



あかいろ





しき

こたえ  まい

- ② つぎのけいさんをしましょう。

- ①  $30 + 20$   
②  $60 + 40$   
③  $80 - 40$   
④  $70 - 10$   
⑤  $100 - 30$

- ③ おはじきを37こもっています。  
5こあげると、なんこのこり  
ますか。



しき

こたえ  こ

- ④ つぎのけいさんをしましょう。

- ①  $32 + 2$   
②  $45 + 4$   
③  $99 - 7$   
④  $26 - 1$   
⑤  $57 - 3$

「100までのかずのけいさん」の  
がくしゅうは たのしかったですか？



「100までのかずのけいさん」の  
がくしゅうは よくわかりましたか？

