

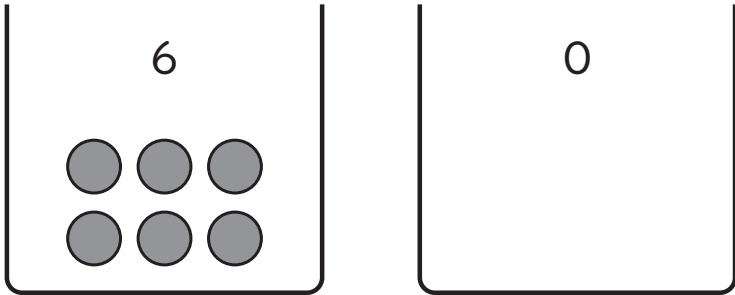
1ねん

16. 0のたしざんとひきざん

く		な	
み		ま	

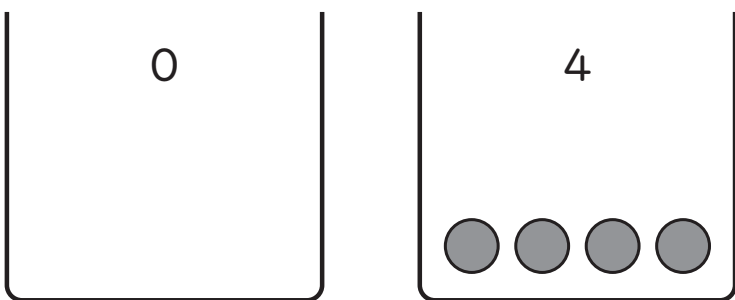
① あわせて なんこですか。□のなかに かずを かきましょう。

①



$$6 + \square = \square$$

②



$$\square + \square = \square$$

② つぎの けいざんを しましょう。

① $5 + 0$

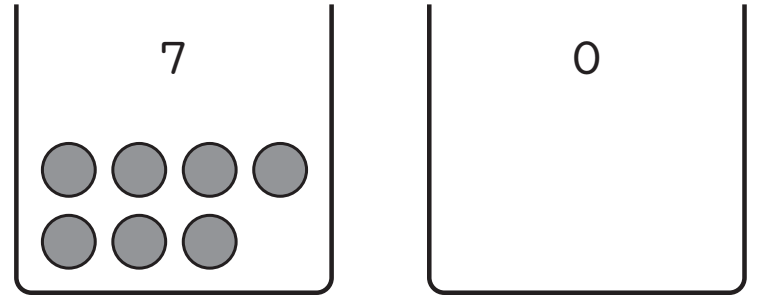
② $9 + 0$

③ $0 + 2$

④ $0 + 0$

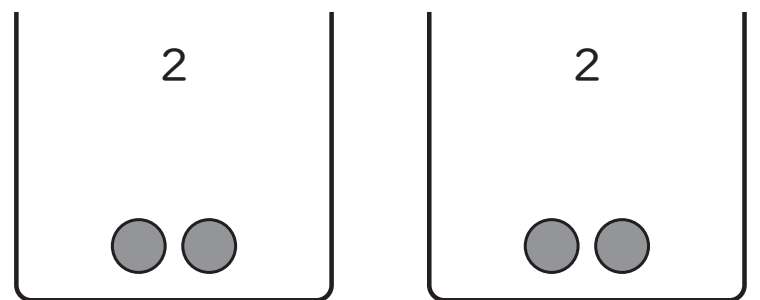
③ ちがいは なんこですか。□のなかに かずを かきましょう。

①



$$7 - \square = \square$$

②



$$\square - \square = \square$$

④ つぎの けいざんを しましょう。

① $4 - 4$

② $8 - 0$

③ $3 - 0$

④ $0 - 0$

「0の たしざんと ひきざん」の
がくしゅうは たのしかったですか？



「0の たしざんと ひきざん」の
がくしゅうは よく わかりましたか？

