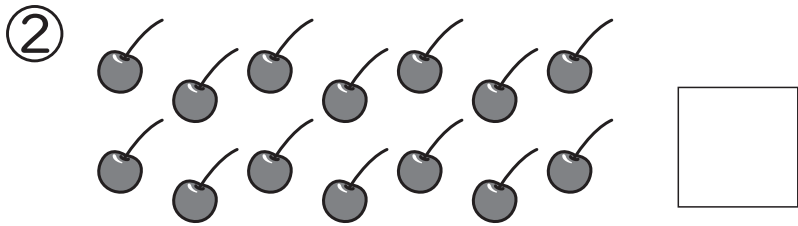



1ねん

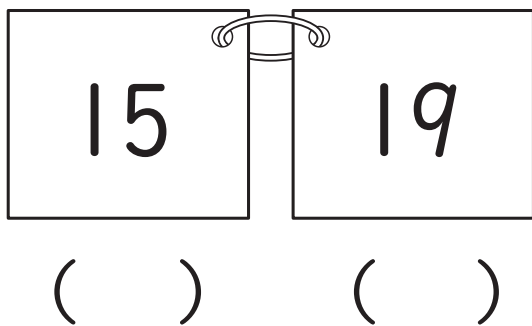
## 9. 10より おおきい かず

く		な	
み		ま	

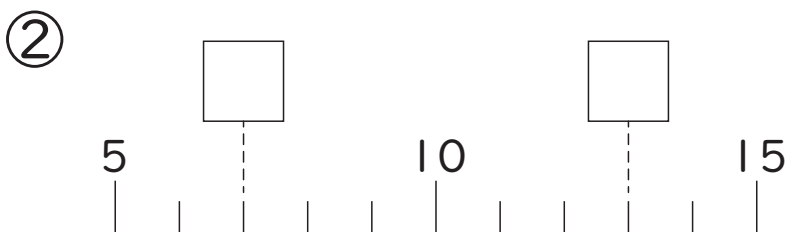
① かずを すうじで かきま  
しょう。



② かずの おおきい ほうに  
まる○を つけましょう。



③ □に かずを かきましよう。



④ けいさんを しましよう。

①  $10 + 10$

②  $13 + 5$

③  $17 - 7$

④  $18 - 5$

⑤ しきに かいて こたえま  
しょう。

① いろがみが 13まい  
あります。2まい つかう  
と、なんまい のこりますか。  
しき

こたえ  まい

② えんぴつが 15ほん  
あります。4ほん もらう  
と、なんぼんに なります  
か。  
しき

こたえ  ほん

「10より おおきい かず」の  
がくしゅうは たのしかったですか？



「10より おおきい かず」の  
がくしゅうは よく わかりましたか？

